









ଗଣିତ

ଶ୍ରେଣୀ- ପ୍ରାରମ୍ଭ

1. ନିମ୍ନରେ ଦିଆଯାଇଥିବା ଚିତ୍ର ମଧ୍ୟରେ କେଉଁ ଜିନିଷଟି ଅଧିକ ଅଛି ?

A.  B.  C.  D. 

2. ନିମ୍ନରେ ଦିଆଯାଇଥିବା ଚିତ୍ର ମଧ୍ୟରେ କେଉଁ ଜିନିଷଟି ଓଜନିଆ ?

A.  B.  C.  D. 

3. ଏକ ସପ୍ତାହ କେତେ ଦିନ ?

A. 5 B. 6 C. 7 D. 8

4. ପାର୍ଶ୍ୱରେ ଦିଆଯାଇଥିବା ଚିତ୍ରର କ୍ରମ ଅନୁସାରେ କଣ ଆସିବ ?



A. ପତ୍ର B. ଫୁଲ C. ଫଳ D. ଗ

5. 1 2 3 ____ 5 6

ଉପରେ ଦିଆଯାଇଥିବା ସଂଖ୍ୟା ସାରଣୀରେ କେଉଁ ସଂଖ୍ୟାଟି ନାହିଁ ?

A. 5 B. 4 C. 6 D. 7

6. ଚିତ୍ରରେ କେତୋଟି ମାଛ ଅଛି ?



A. 4 B. 5 C. 6 D. 7

7. ୮ ସଂଖ୍ୟା ପରେ କେଉଁ ସଂଖ୍ୟା ଆସିବ ?

A. 7 B. 8 C. 9 D. 10

8. ସଂଖ୍ୟା ସାରଣୀରେ ୭ ସଂଖ୍ୟାର ତାହାଣ ପଟ ରେ କେଉଁ ସଂଖ୍ୟା ଆସିବ ?


- A. 5 B. 6 C. 7 D. 8

9. ନିମ୍ନରେ ଥିବା ବାନ୍ଧୁ ମଧ୍ୟରୁ କେଉଁଥିରେ ଅଧିକ ଜିନିଷ ଅଛି ?

- A.  B.  C.  D. 

10. ନିମ୍ନରେ ଥିବା ଦୁଇଟି ବାନ୍ଧୁ ମଧ୍ୟରେ କେଉଁ ଚିହ୍ନ ଲାଗିବ ?

-  ? 
 A. = B. < C. + D. +

11.  +  +  = ?

- A. 5 B. 6 C. 7 D. 8


12.  + 0 = ?

- A. 3 B. 4 C. 5 D. 0

13.  -  = ?

- A. 3 B. 4 C. 5 D. 1

14. ଚିତ୍ରରେ କେତୋଟି ରବର ଅଛି ?



- A. 5 B. 6 C. 7 D. 9

15.  

ଉପରୋକ୍ତ ଦୁଇଟି ଚିତ୍ର ମଧ୍ୟରେ କେଉଁ ଚିହ୍ନ ବସିବ ?

- A. < B. \$ C. = D. +

Answer

1.B 2.A 3.C 4.B 5.B 6.C 7.C 8.D 9.B 10.B 11.C 12.B

13. A 14.D 15.A