




ଗଣିତ

ଶ୍ରେଣୀ- ବୋଧ

1. ନିମ୍ନରେ ଦିଆଯାଇଥିବା ଜିନିଷ ମଧ୍ୟରୁ କେଉଁଟି ଓଜନିଆ ?



A. ୪

B. ୮

C. ୨

D. ୯

3. କେଉଁ ସଂଖ୍ୟାଟି “୧୭” ପୂର୍ବରୁ ଆସିବ ?

A. ୧୭

B. ୧୮

C. ୧୬

D. ୨୦

4. “୨୨” ଓ “୨୪” ମଧ୍ୟରେ କେଉଁ ସଂଖ୍ୟା ବସିବ ?

A. ୨୦

B. ୨୧

C. ୨୩

D. ୨୫

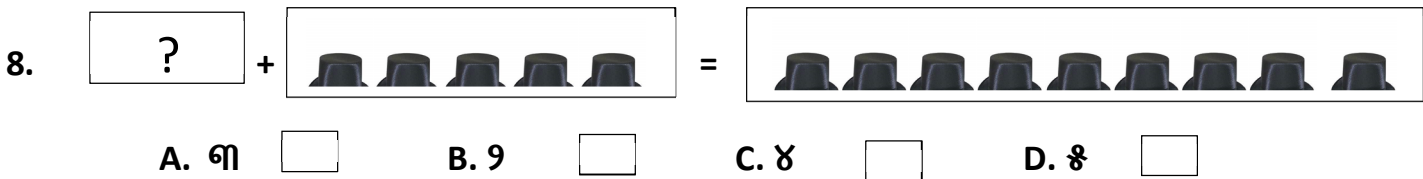
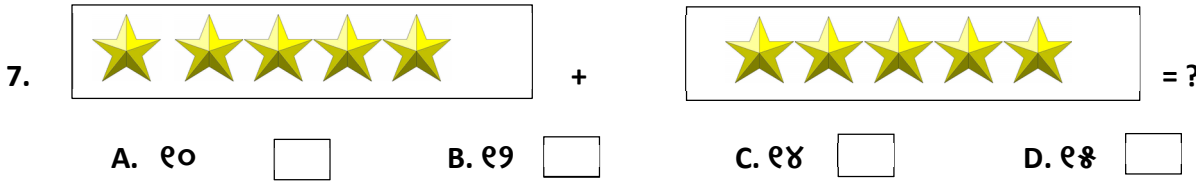
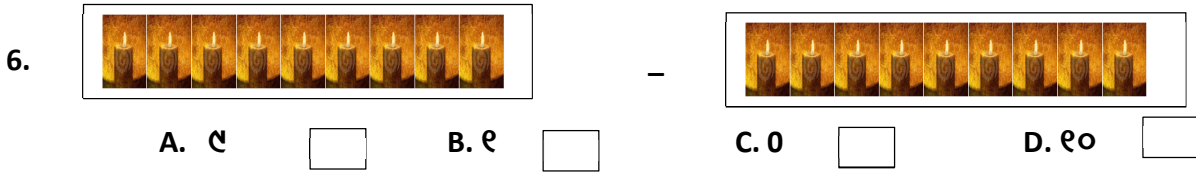
5. କେଉଁ ସଂଖ୍ୟାଟି ୩୮ ପରେ ଆସିବ ?

A. 36

B. ୩୭

C. ୩୮

D. ୩୯



9. ନିମ୍ନରେ ଦିଆଯାଇଥିବା ସଂଖ୍ୟା ମଧ୍ୟରେ ସବୁଠାରୁ ବଡ଼ ସଂଖ୍ୟାଟି କିଏ ?

“୪,୨,୫,୯,୩,୭,୭,୮,୫,୨,୪,୨,୭,୭”

- A. ୭ B. ୭ C. ୮ D. ୯

10. ନିମ୍ନରେ ଦିଆଯାଇଥିବା ସଂଖ୍ୟା ଗୁଡ଼ିକ ସାନ ରୁ ବଡ଼ କ୍ରମରେ ସଜାଇ ରଖିଲେ କଣ ହବ ?

“୫,୮,୧୨,୪,୨,୩”

- A. ୫,୩,୪,୮,୧୨,୨ C. ୩,୪,୨,୫,୮,୧୨
B. ୩,୪,୫,୨,୮,୧୨ D. ୩,୪,୫,୮,୨,୧୨

11. ନିମ୍ନ ସଂଖ୍ୟା ଗୁଡ଼ିକୁ ବଡ଼ ରୁ ସାନ କ୍ରମରେ ସଜାଇ ରଖିଲେ କଣ ହବ ?

“୫,୯,୪,୧୧,୩,୨”

- A. ୩,୪,୫,୨,୯,୧୧ C. ୧୧,୯,୨,୫,୪,୩
B. ୧୧,୯,୫,୨,୪,୩ D. ୯,୧୧,୨,୫,୪,୩

12. “୮” ସଂଖ୍ୟା କୁ ଅକ୍ଷରରେ ଲେଖିଲେ କଣ ହବ ?

- A. ଆଠ B. ଅଗି C. ସାତ D. ଏଠି

13. ସପ୍ତାହ ର ଚତୁର୍ଥ ଦିନଟି କଣ ?

- A. ମଙ୍ଗଳବାର B. ଗୁରୁବାର C. ଶୁକ୍ରବାର D. ରବିବାର

14. ମଙ୍ଗଳବାର ପରେ କେଉଁ ବାର ଆସେ ?

- A. ସୋମବାର B. ବୁଧବାର C. ଗୁରୁବାର D. ଶୁକ୍ରବାର



15. ଏହି ଚିତ୍ରଟିରେ ଥିବା ଜିନିଷଟିର ଆକାର କିପରି ?

- A. ଗୋଲାକାର C. କୋଣାକାର
B. ଘନାକାର D. ଆୟତାକାର

ANSWERS

1.B 2.D 3.C 4.C 5.D 6.C 7.A 8.C 9.D 10.B 11.C 12.A 13.B 14.B 15.B