

ସାଧାରଣ ଜ୍ଞାନ

ଶ୍ରେଣୀ- ବୋଧ

1. ନିମ୍ନରେ ଥିବା ଫଳ ମଧ୍ୟରେ କେଉଁଥିରେ ଗୋଟିଏ ମଞ୍ଜି ଅଛି ?









2. ନିମ୍ନରେ ଥିବା ପରିବା ମଧ୍ୟରେ କେଉଁଟି ସାଧାରଣ ଭାବରେ ବ୍ୟବହାର ହୁଏ ?


A. ଟମାଟୋ

B. ଆଳୁ


C. ଗାଜର

D. ଭେଣ୍ଟି

3. ତୁମେ ପାଦରେ କଣ ପିନ୍ଧ ?









4. ତୁମେ ପାଦରେ କେତୋଟି ଆଙ୍ଗୁଠି ଅଛି ?

A. 8

B. 7

C. 6

D. 10

5. କାହା ହାରା ମ୍ୟାଲେରିଆ ରୋଗ ହୁଏ ?

A. ପ୍ରଜାପତି


B. ମାଛି

C. ମଣି


D. ବୁଢ଼ିଆଣୀ

6. ନିମ୍ନରେ ଥିବା ଗାଡ଼ି ମଧ୍ୟରୁ କେଉଁଟି ପେଟ୍ରୋଲରେ ଚାଲେ ?











7. କାହାକୁ ମରୁଭୂମିର ଜାହାଜ କୁହାଯାଏ ?









8. ଶନିବାର ପୂର୍ବରୁ କେଉଁ ବାର ପଡ଼େ ?

- A. ରବିବାର B. ସୋମବାର C. ଶୁକ୍ରବାର D. ମଙ୍ଗଳବାର

9. ଚର୍ମ ର ବ୍ୟବହାର କଣ ପାଇଁ ହୁଏ ?

- A. ଶୁଣିବା B. ଅନୁଭବ କରିବା C. ଦେଖିବା D. କାମ କରିବା

10. ଆମେ ଜଣକୁ ଅନୁରୋଧ କଲାବେଳେ କଣ କହିବା ?

- A. ଧନ୍ୟବାଦ B. ରହିଯାଅ C. ଦୟାକରି D. ଆସୁଛୁ

11. ନିମ୍ନରେ ଥିବା ଅଭ୍ୟାସ ମଧ୍ୟରୁ କେଉଁଟି ଭଲ ଅଭ୍ୟାସ ?

- A. ରାସ୍ତାରେ ଅଳିଆ ଫିଙ୍ଗିବା B. ସବୁଦିନ ବ୍ୟାୟାମ କରିବା
C. ରାତିରେ ଡେରିରେ ଶୋଇବା D. ସ୍କୁଲ ରେ ଡେରିରେ ପହଂଚିବା





12. କେଉଁ ପରିବାଟି ମାଟି ଉପରେ ହୁଏ ?

- A. ଫୁଲକୋବି B. ଗାଜର C. ଆଳୁ D. ଅଦା

13. ନିମ୍ନ ଚିତ୍ର ମଧ୍ୟରୁ କିଏ ସାପକୁ ମାରିପାରେ ?

- A.  B.  C.  D. 

14. ଆମେ କେଉଁଥିରେ ଖେଳିବା ଉଚିତ ନୁହେଁ ?

- A.  B.  C.  D. 

15. କେଉଁଟି ହିଂସ୍ର ପଶୁ ?

- A.  B.  C.  D. 

ANSWERS

1.B 2.B 3.C 4.D 5.C 6.B 7.C 8.C 9.B 10.C 11.B 12.A 13.C 14.C 15.D